

考試科目 Course	自然科學概論	系級	新聞學系	日期 Date, Period	4月22日 第 2 節	試題編號 CourseNo.	327
----------------	--------	----	------	-----------------------	----------------	-------------------	-----

共1頁

申論題：每題佔25%，共四題。

- 一. 核子物理的研發，為人類帶了禍福。請從核能發電、核子試爆、核子武器及輻射的發展背景，申論其對人類的禍福影響。
- 二. 氣功，這個名詞，長久以來被科學界認定為「不科學」。但國科會在十餘年前開始資助這方面的研究計畫，目前有中央研究院物理所、台大電機系、榮民總醫院、陽明大學及東吳大學物理系等的研究人員和教授合作，已在IEEE及相關醫學、心理學的期刊上發表過多篇研究成果。他們的成果乃建立在現代科學的研究方法（包括實驗法）上。即使如此，仍有極大多數的科學界人士斥之為「不科學」。請說明你的看法（請根據科學訓練/教育的立場發抒）。
- 三. 有人說，生物科技注定是二十一世紀的明星科技，但亦將是人類前所未有的災難。此說的重點即指基因工程勢必帶來道德的爭議（像人類胚胎研究、基因改良食品研究）。請申論之。
- 四. 你認為今天台灣的大眾傳播媒體為民衆提供了多少科學知識？除了傳媒的責任外，科學家的責任有多少？學校的教育又有什麼責任？你的責任呢？請說明。

國立政治大學圖書

考試科目 Course	(法學緒論)	系級 新聞學研究所	日期 Date, Period	月 第	日 第	試題編號 Course No.
----------------	--------	--------------	-----------------------	--------	--------	--------------------

共1頁

三大題（總計十三題），合計一百分，請務必注意時間分配，以免無法答完。

一、是非題（每題三分，總計三十分）：

請依題序以中文「是」或「非」回答，其他符號如“○×”“對錯”等均不予計分

- (一) 根據大法官釋字第四百九十九號解釋，國民大會是修憲機關，所以可以修改憲法中的所有規定。
- (二) 依憲法第一百七十四條規定，修正憲法有固定的程序，由於我國採取「成文憲法」制度，因此，我國並無「憲法」及依相同修憲程序所制定的「增修條文」以外其他憲法規範存在。
- (三) 根據憲法第八十條規定「法官依據法律獨立審判」，民事庭法官不得引用法律以外的其他法源，做為審判的依據。
- (四) 我國現有民法與公司法、農墾法、海商法、保險法、證券交易法、銀行法等「商事法」分別立法；因此，我國係與德國相同，採取所謂「民商分立」的民事法律制度。
- (五) 我國《憲法增修條文》自民國八十年以來，已經增修五次之多；今（八十九）年則正在進行第六次增修的相關討論。
- (六) 依我國民法第一百五十一條關於所謂「自助行為」的規定，人民凡因保護自己權利，即無須請求債務人履行或取得強制執行名義聲請執行，逕行押收或毀損他人財物，實現權利的內容。
- (七) 刑法是「實體法」；因此，其中沒有關於「程序」法律關係的規定。
- (八) 依我國現行刑法規定，行為人不知法律者，得免除其刑，這就是學說上所稱的「欠缺違法意識」的「阻卻違法事由」。
- (九) 由於我國律師資格是通過國家考試與職前訓練才能取得，因此，不具備律師資格者不得在法庭上擔任訴訟代理人。
- (十) 依「性侵害防治法」規定，對智障或未滿十六歲性侵害被害人，得採雙向電視系統隔離訊問，其陳述得引為認定被告有罪的證據。

二、簡答題（總計三十分）

- (一) 請列舉憲法第二十三條規定得據以限制人民自由權利的四種理由，以及限制的條件與方式（十五分）。
- (二) 「出版法」廢止後報業是否仍受法律限制？試附理由說明之（十五分）。

三、簡述一本妳/你所讀過的法學著作（含教科書、講義，但必須註明著作名稱與作者姓名）主要內容，並說明妳/你對於主要內容的學習心得（四十分）。

試答下列諸題 (本考科共四題, 四題全答, 每題佔25%)

國立政治大學圖書館

一 網路時代來臨, 傳統新聞學理念面臨挑戰, 你認為「網路新聞學」內涵與傳統新聞學的實質內容, 究竟有那些異、同之處, 試詳言之, 析言之。(25%)

二 試解釋下列新聞學名詞, 並就其迷思之處, 詳加討論:

(一) 新聞本質 (the nature of news) 與新聞價值 (news values) :-

(二) 市場導向新聞學 (market-orientation journalism) 與市場壓力新聞學 (market-driven journalism) :-

(三) 評論 (editorial) 與意見廣告 (advertorial) (25%)  
(三項全答)

# 新聞學

卷數

# 新聞學

日期

第 月

第 日  
第 試題

### 三、何謂客觀？

人能客觀嗎？若人能客觀，是所有人都能客觀呢？還是只有部分人能客觀？若只是部分人能客觀，是什麼人能客觀？為什麼有人能客觀，有人不能客觀？關鍵何在？

記者能客觀嗎？為什麼？若記者不能客觀，何以新聞教育和新聞工作的職場倫理又要求客觀？

（不論您怎麼答，都須論證，使能服人；占25%）

四、若與古代中國的邸報或歐美的新聞信比較，您認為現代報紙應具備什麼要件？（占25%）

2-2

考試科目 Course	社會問題分析	系級 新聞研究所	日期 Date, Period	月	日	試題編號 Course No.
----------------	--------	-------------	--------------------	---	---	--------------------

英二頁 2-1


國立政治大學圖書館

一、請簡明解釋下列名詞的意涵 (10%，每題一分)。

- a. 森喜朗
- b. 基因序列
- c. 法輪功
- d. 微軟反托拉斯法訟案
- e. 四大基金
- f. 野百合運動
- g. 老虎伍茲
- h. 龍潭聖蹟亭
- i. PNTR
- j. WAP

二、以下附圖是今 (89) 年元月廿九日某報民意版刊載的一幅漫畫 (20%)。

- (1) 請分析詮釋這幅漫畫所指涉的新聞事件、以及作者所欲指涉的意涵。
- (2) 請針對這幅漫畫，試擬讀者投書一則 (四百字以內)，表達你的觀點。



三、日前許多傳播媒體的娛樂版面，都報導了兩則與校園有關的消息。第一則新聞是某大學在學女生拍攝了一本寫真集，以身示人；第二則新聞是某位因寫真集而出名的豔星，應中部某校學生社團邀請而到校演講，這兩則新聞不約而同地反映了時下寫真集進入校園的現象 (20%)。

- (1) 請問有哪些不同的角度可以用來切入觀察上述的現象？
- (2) 請選擇其中一個角度，表達你的看法。

考試科目 Course	社會問題分析	系級	新河所	日期 Date, Period	期 4	月 23	日 0	政通編號 Course No.
----------------	--------	----	-----	-----------------------	--------	---------	--------	--------------------

2-2

四、2000 年中華民國總統選舉後，新人新政。從選罷後的新政府人事安排上，我們看到些許人性風貌。不論是助選者要求論功行賞、舊組織成員對新政府「就地取材」的欣然承諾，還有在學界與政界間遊走的大學校園人士等等，對這種跡象：

- (1) 你的看法為何？其對社會意義又如何？
- (2) 你認為在一個現代國家裡，引導社會前進的社會人該具備什麼樣的風格？政府首長該有什麼樣的官格？在你記憶中，誰是最有這樣風範的現代官員？為什麼？
- (3) 除了格以外，你認為現代政務官該具備什麼條件？政務官在位期間，最重要任務為何？

(本題 30%，字數不限，但請勿灌水)

五、今年三月初，中央研究院院長李遠哲在一場公開演講中，呼籲台灣在未來關鍵的五年必須跨越經濟、政治及學術斷層。就你所知，大學的「學術斷層」現況如何？該如何在未來五年跨越？（或者未來五年可以跨越嗎？為什麼？）一名研究生在此斷層中能做些什麼？

當然，你也可以認為學術斷層和研究生無關，不過，請述理由。

(本題 20%，限 2000 字左右)

考試科目 Course	心理學	系級 Dept. & Class	新研所	日期 Date, Period	4月22日 第3:20-5:00節	試題編號 Course No.
----------------	-----	---------------------	-----	--------------------	----------------------	--------------------

1. 在觀看電視上的戲劇節目或電影時，我們經常會應用我們對周遭世界的既存知識架構 (knowledge structure) 或基模 (schema) 來幫助我們處理節目或電影中的訊息。請就你對知識架構 (knowledge structure) 或基模 (schema) 相關理論的知識來說明在觀看電視上的戲劇節目或電影時，這些既有的知識架構 (knowledge structure) 或基模 (schema) 可以在哪些不同面向影響到我們對節目或電影中訊息的處理。(20分)
2. 過去有關人格 (personality) 發展或自我概念 (self-concept) 形成的相關理論大都是在西方國家發展，並經常直接應用來討論非西方國家人民。然而近年來社會心理學者漸漸意識到跨文化間人類的人格特性雖有許多共通性，但同時我們似乎無法忽略文化差異所可能產生的影響。因此請你試著從文化差異的觀點來討論人們所處文化環境對個人人格發展與自我概念形成的影響。(20分)
3. 自八〇年代以來，心理學者開始重視情感在人之認知過程中所扮演的角色，也有不少學者探討情感對說服或訊息處理的影響。假設今天你受委託企畫一個有關愛滋病公共衛生宣導的廣告溝通活動，請問你如何可以利用情感對說服或訊息處理影響的相關知識，來設計有效的溝通訊息。請說明你的溝通訊息策略為何，以及支持此訊息策略背後的情感相關理論之基本意涵與主要論點為何。(20分)
4. 今年年初美國三大新聞網在報導一則青少年殺人案件時，提到此青少年殺人嫌犯之所以會犯下此手段殘忍的謀殺案，是受到曾經看到的一齣電影內容的影響，而且其殺人手法與電影中情節雷同。請問如果正如記者所言，此殺人嫌犯之所以會犯下此案乃因電影暴露的影響，過去心理學領域有哪些相關理論 (至少兩個) 可以用來解釋這個現象？這些理論的基本意涵與主要論點為何？(20分)
5. 此次總統大選期間，候選人宋楚瑜似乎因興票案的發生而流失了一些支持的選民，但是卻有另一群死忠的選民，儘管媒體不斷持續對興票案有對宋先生不利的報導仍然不為所動。請問這一群死忠選民在暴露於新聞媒體上不利於宋先生的興票案報導時可能產生了什麼歸因 (attribution) 的過程。請實際應用 Heider's naive psychology of action, Jones and Davis's correspondence inference theory, 或 Kelly's attribution theory 來說明。(20分)

考試科目  
Course

社會學

系級

新聞學系  
一般生

日期  
Date,  
Period

4月22日  
第3:20-5:00節

1. 米歇爾 (Robert Michels) 提出的寡頭鐵律 (the iron law of oligarchy) 內容——包括奧民主政治關係——為何？有什麼理由支持或反對他的看法？ (25分)

2. 假設你是研究所剛畢業的女性求職者，根據過去對經濟發達國家社會流動性的研究，你在職場中的前景 (即流動機會) 如何？ (25分)

3. 與基督新教的教義相比，韋伯 (Max Weber) 為什麼相信中國傳統儒學所重視的社會價值，無法幫助中國走上現代資本主義的道路？ (25分)

4. 就第十任中華民國總統大選後，國民黨中央黨部發生群眾聚集訴求的事件而言，該事件在多大程度上符合，或者不符合史美舍 (Neil Smelser) 的社會運動條件說？為什麼？ (25分)

1. 1999年2月底中華電信宣佈調降大哥大服務費率，此舉是否會使中華電信的大哥大業務收入與利潤降低？請詳論之。(25分)
2. 有線電視法將全國分成51行政區，且規定每區至多能有5家有線電視業者獲得營業許可。上述立法的經濟理論基礎何在？此外，有線電視業者的收費標準必須受到「費率上限管制」的規範，其經濟理論基礎又何在？(25分)
3. 何謂「通貨膨脹」？根據其起源因素的不同，「通貨膨脹」又可分成那些類別？今(2000)年2月行政院主計處公佈元月份台灣的一般物價水平有較顯著的上漲跡象，其背後形成因素為何？又此一現象屬那類型的「物價水平上漲」？可稱之為「通貨膨脹」嗎？(25分)
4. 去(1999)年以來，隨著外資持續匯進台灣，其對新台幣匯率與台灣金融市場利率水準的影響如何？在何種情況下，它只會導致物價水平上漲？在何種情況下，它亦會有助於國民所得水準的提升？(25分)

考試科目 Course	政治學	系級	新聞所	日期 Date, Period	第 2 頁	試題編號 CourseNo.
----------------	-----	----	-----	-----------------------	-------	-------------------



共 2 頁 2-1

- 1、請以每小題至多 5 行（超出 5 行扣分）的篇幅，解釋下列名詞：  
（每小題各 5 分，本題共 30 分）
  - (1) populism
  - (2) rational choice
  - (3) positive rights
  - (4) political socialization
  - (5) The Prince
  - (6) civil society
  
- 2、何謂利益團體？就你所知台灣的利益團體影響中央政府決策的途徑（管道）有那些？（本題 20 分）
  
- 3、今年三月十八日總統選舉過後，台灣政治史上首次出現總統（民進黨的陳水扁）與立法院多數黨（國民黨）屬於不同政黨的局面。未來行政院新內閣如何組成的問題，引起各方爭議。馬英九認為國民黨既然是多數，新內閣的組成就應該由陳水扁屬意的行政院長，國民黨籍的唐飛，全權主導。最起碼組閣的事也要透過國民黨與民進黨間的黨對黨協商；陳水扁則說在選舉中他受到的選民託付是「清流共治」，他要組的是一個全民內閣，不是聯合內閣。他唯才是問，不必政黨來插手。就你對我國憲政制度與政治發展的瞭解，你覺得他們兩人誰比較有道理？為什麼？或是你另有主張？你的主張是什麼？（本題 25 分）
  
- 4、第 2 頁（請見下一頁）所附是今年三月總統選舉期間由國民黨在若干報紙上所刊登的競選廣告之一。這個沒有正式具名的廣告被批評為「以報紙報導的方式發佈假的民意調查」，企圖影響選民行爲。連戰競選總部總幹事胡志強則說明這是「策略性民調」。根據你對一般選民投票行爲的瞭解，說明你認為為什麼國民黨會登這樣的廣告？你認為他們期待怎麼樣的效果？又，依照你的看法這樣的廣告會不會發生影響選民的效果？說明你的理由。（本題 25 分）

# 總統的性格

## 整合包容力誰較好


有人說：「總統就好像女將」，國家領導人的命脈繫於全體國民的命脈，所以「總統力」也應當是國民的命脈。根據新形勢，國民對總統的要求，應在「道義」與「實力」之間取得平衡。在「道義」方面，應有「長程」與「短程」之分。在「實力」方面，應有「硬實力」與「軟實力」之分。只有兩者兼備，才能稱之為「好總統」。



# 連戰受肯定

## 民調排序為連宋扁

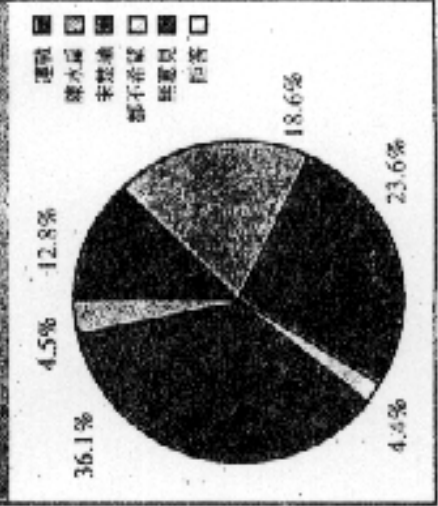
地時爭動，幾乎是連戰在連戰身上看到。連戰生性拘謹、不善誇張，卻常被批評「秀」味不夠。不過在連戰眼中，穩定、不造情的人格反而是連戰所期望的。連戰因此被認為較適合擔任中共的挑戰。



# 宋扁選民愛惡分明

## 連戰中性左右逢源

新形勢民調中心所完成之民調報告中，有兩項耐人尋味的結果。當問到「誰最有可能當選？」時，結果連戰以33.3%的高比例居首。好萊木扁則有14.4%，支持連戰的受訪者有12.8%。這顯示連戰在選民眼中，仍處於「左右逢源」的地位。



總統短，不若連戰兩人搭檔，擔任過八屆部會首長；而與連戰的連戰也談不再，所以雖然在支持連戰上，仍維持三強的地位。不過國民黨的連戰，連戰以些微的差距領先對手，三強支持度的百分比，也發現宋楚瑜與陳水扁的差距，而陳水扁則因過去僅擔任台北市長，所以其支持度僅為20.7%。連戰的支持度，則為25.5%。